

TRƯỜNG TIỂU HỌC TÊN : LỚP : 3/...	KIỂM TRA ĐỊNH KỲ CUỐI HK I NĂM HỌC 2022 – 2023 NGÀY: ... / 12 / 2022 MÔN: TOÁN - LỚP 3 <i>Thời gian: 40 phút</i>	
	GIÁM THỊ 1	GIÁM THỊ 2

ĐIỂM	LỜI NHẬN XÉT GIÁM KHẢO	Giám khảo 1	Giám khảo 2
		

PHẦN I: Em hãy khoanh tròn vào chữ cái đặt trước câu trả lời đúng.

Câu 1: .../ 0,5đ

M1 - A

Số “ Bốn trăm năm mươi sáu ” được viết là:

A. 456

B. 450

C. 465

Câu 2: .../0,5đ

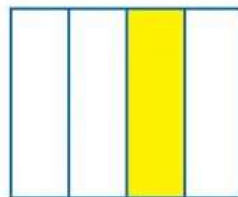
M1 - B

Hình nào đã tô màu $\frac{1}{3}$?


A. Hình A

B. Hình B


C. Hình C



Hình A



Hình B



Hình C

Câu 3: .../0,5đ

M1 - C

Trong các phép chia có dư với số chia là 6, số dư lớn nhất là mấy?

A. 7

B. 6

C. 5

Câu 4: .../0,5đ

M1 - A

Điền số thích hợp vào chỗ chấm là: $276 + \dots = 558$

A. 282

B. 322

C. 382

Câu 5: .../0,5đ

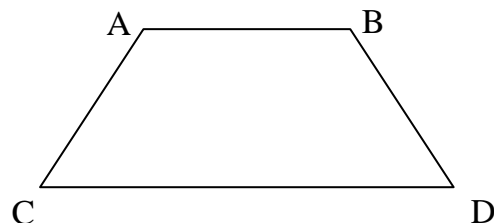
M1 - C

Quan sát hình bên có :

A. 3 đỉnh và 4 cạnh

B. 4 đỉnh và 3 cạnh

C. 4 đỉnh và 4 cạnh



Câu 6: .../0,5đ

M1 - A

Cây bút chì của em dài khoảng:

A. 15 cm

B. 15 dm

C. 15 m

PHẦN 2:

Câu 7: .../1 đ

M2

Tự luận

Điền số thích hợp vào chỗ trống?

a. 5 m 8 cm = cm

b. 7 cm 4 mm = mm

Câu 8:.../1đ

M1

Tính nhẩm:

a. $800 \times 3 = \dots\dots\dots$

b. $420 : 6 = \dots\dots\dots$

Câu 9:.../1 đ

M1

Đặt tính rồi tính:

79×7

$184 : 8$

Câu 10:.../1 đ

M2

Tính giá trị của biểu thức:

$482 + 36 \times 4$

Câu 11 :.../2đ

M3

Chủ nhật tuần rồi, mẹ Lan đi chợ mua 45 quả trứng vịt và số quả trứng gà gấp 4 lần số quả trứng vịt. Hỏi mẹ Lan mua tất cả bao nhiêu quả trứng?

Bài giải

Câu 12:.../1 đ

M2

Điền số thích hợp vào chỗ chấm:

Lớp Ba 1 tổ chức thi làm thiệp Mừng Xuân vào thứ sáu tuần này. Có 41 bạn cùng tham dự thi.

- a. Cứ 4 bạn thì làm 1 cái thiệp. Vậy lớp Ba 1 làm được ít nhất cái thiệp.
- b. Buổi thi bắt đầu lúc 14 giờ 10 phút và kéo dài 30 phút. Buổi thi sẽ kết thúc vào lúc giờ phút.

ĐÁP ÁN ĐỀ KIỂM TRA CUỐI HỌC KÌ 1
MÔN TOÁN LỚP 3 - NĂM HỌC 2022 – 2023

Câu 1	Câu 2	Câu 3	Câu 4	Câu 5	Câu 6
A	B	C	A	C	A

Câu 7: **Mỗi đáp án đúng đạt 0,5đ (0,5 x 2 = 1đ)**

- a. 5 m 8 cm = **508** cm b. 7 cm 4 mm = **74** mm

Câu 8: **Mỗi đáp án đúng đạt 0,5đ (0,5 x 2 = 1đ)**

- a. $800 \times 3 =$ **2400** b. $420 : 6 =$ **70**

Câu 9: **Mỗi bài đặt tính và tính đúng đạt 0,5đ (0,5 x 2 = 1đ)**

$$\begin{array}{r} 79 \\ \times 7 \\ \hline 553 \end{array}$$

$$\begin{array}{r|l} 184 & 8 \\ \hline 16 & 23 \\ 24 & \\ 24 & \\ 0 & \end{array}$$

Câu 10: Tính giá trị của biểu thức:

$$\begin{aligned} & \mathbf{482 + 36 \times 4} \\ & = 482 + 144 \quad \mathbf{(0,5đ)} \\ & = 626 \quad \mathbf{(0,5đ)} \end{aligned}$$

Câu 11:

Bài giải

Số quả trứng gà mẹ Lan mua là: **(0,5đ)**

$$45 \times 4 = 180 \text{ (quả)} \quad \mathbf{(0,5đ)}$$

Số quả trứng mẹ Lan mua tất cả là: **(0,5đ)**

$$45 + 180 = 225 \text{ (quả)} \quad \mathbf{(0,5đ)}$$

Đáp số: 225 quả

➤ **Lưu ý:**

- Không viết hoặc viết sai đáp số, viết thiếu hoặc sai tên đơn vị trừ chung 0.5đ cả bài.
- Nếu lời giải sai, phép tính đúng, không cho điểm phép tính.
- Nếu lời giải đúng, phép tính sai, không cho điểm lời giải.
- HS có thể giải theo nhiều cách, nếu đúng, hợp lí vẫn đạt điểm.

Câu 12: **Mỗi đáp án đúng đạt 0,5đ (0,5 x 2 = 1đ)**

- a. 10 cái thiệp
b. 14 giờ 40 phút