
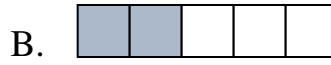


BÀI ÔN TẬP CUỐI HỌC KÌ 2

MÔN TOÁN LỚP 4 – ĐỀ 1

Câu 1. Khoanh vào chữ cái đặt trước câu trả lời đúng .

a. Hình nào có $\frac{2}{3}$ số ô vuông đã tô màu?



b. Phân số nào là phân số tối giản?

A. $\frac{15}{20}$

B. $\frac{20}{15}$

C. $\frac{12}{20}$

D. $\frac{5}{9}$

Câu 2. Nối phân số bằng nhau.

A. $\frac{3}{4}$

$\frac{33}{57}$ (1)

B. $\frac{16}{20}$

$\frac{7}{10}$ (2)

C. $\frac{35}{50}$

$\frac{4}{5}$ (3)

D. $\frac{11}{19}$

$\frac{27}{36}$ (4)

Câu 3. Đúng ghi Đ, sai ghi S vào ô trống .

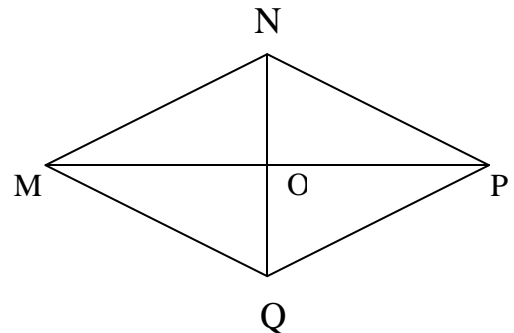
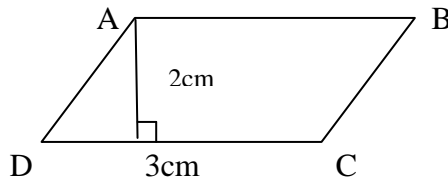
a. $580\text{dm}^2 > 5\text{m}^2 79\text{dm}^2$

b. $3\text{kg } 5\text{g} = 3005\text{g}$

c. $1\text{dm}3\text{cm} = 130\text{cm}$

d. $\frac{1}{3}$ giờ = 30 phút

Câu 4. a) Điền chữ thích hợp vào chỗ chấm :



Hình

Hình

b) Diện tích của hình ABCD là:

Biết độ dài đoạn $ON = 2\text{cm}$, $OM = 3\text{cm}$. Diện tích của hình MNPQ là:

.....

Nhấp vào link để mở xem video chữa đề chi tiết: <https://youtu.be/1Zs9Wc1afRY>

Câu 5.

a) Trên bản đồ tỉ lệ 1: 100 000, quãng đường AB đo được là 3 dm. Độ dài thật là: km.

b) Khoảng cách hai tỉnh A và B là 40km. Tỉ lệ bản đồ là 1: 1000 000. Độ dài hai tỉnh A và B được vẽ trên bản đồ là:.....

TỰ LUẬN

Câu 6. Tính:

a. $\frac{4}{7} + \frac{2}{6} =$

b) $\frac{3}{4} - \frac{5}{8} =$

c) $\frac{4}{5} \times 3 =$

d) $\frac{3}{4} + \frac{2}{5} : \frac{4}{3} =$

Câu 7.

a. Tìm x

$$\frac{5}{7} + \frac{x}{35} = \frac{4}{5}$$

b. Tính bằng cách thuận tiện

$$\frac{17}{2} \times \frac{3}{5} + \frac{3}{5} \times \frac{1}{2} + \frac{3}{5}$$

.....
.....
.....
.....

Câu 8. Chu vi của một mảnh đất hình chữ nhật là 180m. Chiều rộng bằng $\frac{2}{3}$ chiều dài. Tính diện tích mảnh đất đó.

.....
.....
.....
.....
.....

.....
.....
.....
.....
.....
.....
Câu 9. Mẹ hơn con 27 tuổi. Sau 3 năm nữa tuổi mẹ sẽ gấp 4 lần tuổi con. Tính tuổi của mỗi người hiện nay.

.....
.....
.....
.....
.....
.....
.....
.....
.....
.....
.....
.....
.....
.....
.....
.....
.....
.....
.....
.....

Câu 10. Tính

a) $\frac{12 \times 15 \times 17}{6 \times 34 \times 45} = \dots\dots\dots$

b) $\frac{3 \times 22 \times 7}{11 \times 6 \times 4} = \dots\dots\dots$

Nhấp vào link để mở xem video chữa đề chi tiết: <https://youtu.be/1Zs9Wc1afRY>

Nhấp vào link để mở xem video chữa đề chi tiết: <https://youtu.be/1Zs9Wc1afRY>