

ÔN TẬP TOÁN TIẾNG VIỆT LỚP 1 LÊN LỚP 2 (Năm học 2020 – 2021)

ÔN TOÁN – ĐỀ 1

Bài 1. Khoanh vào chữ đặt trước câu trả lời đúng:

a. Đám mây nào chỉ gồm các số lớn hơn 6?



A



B



C



D

b. Số lớn nhất trong các số 78, 87, 47, 74 là:

A. 78

B. 87

C. 47

D. 74

c. Hôm nay là thứ Sáu ngày 26 tháng 6. Vậy Chủ nhật là:

A. Ngày 26 tháng 7

B. Ngày 27 tháng 6

C. Ngày 28 tháng 6

D. Ngày 29 tháng 6

Bài 2. Nối đồng hồ với câu thích hợp:



An ngủ dậy lúc 6 giờ sáng



An đi học về lúc 5 giờ chiều



Bài 3. Viết các số 42, 24, 75, 57, 100, 2 theo thứ tự từ bé đến lớn:

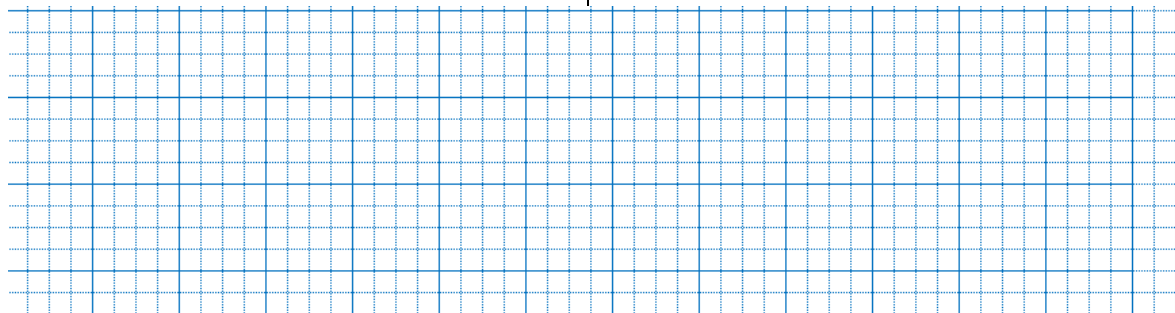
.....

Bài 4. Viết vào chỗ chấm cho phù hợp:

a) Số 95 đọc là:.....

b) Một số tròn chục bé hơn 50 là:

Bài 5. a) Đặt tính rồi tính:

$55 + 4$	$46 + 23$	$97 - 45$	$67 - 3$
			

b) Tính: (1 điểm)

$20 + 10 + 10 = \dots\dots\dots$

$60\text{cm} - 10\text{cm} = \dots\dots\dots$

Bài 6. <, >, = (1 điểm)

$32 + 17 \square 37 + 12$

$58 - 8 \square 85 - 5$

Bài 7. Quyển vở của Mai có 48 trang, Mai đã viết hết 13 trang. Hỏi quyển vở còn lại bao nhiêu trang chưa viết?

Phép tính:.....

Trả lời: Quyển vở còn lại trang chưa viết.

Bài 8. Số?



LINK XEM THỬ TÀI LIỆU HAY BẬC TIỂU HỌC (nhấp vào link)

<https://drive.google.com/drive/folders/15ihBSQQ8sxtNaChl4IiabmxZuFjJpvxV?usp=sharing>

ÔN TOÁN – ĐỀ 2

Bài 1:

a. Viết số thích hợp vào chỗ...

61;;;;; 66;;;; 70.

99;;; 96;;;; 92;; 90.

b. Viết các số:

Ba m- ươi t- :.....

Sáu m- ươi bảy:.....

Tám m- ươi một:.....

Chín m- ươi tám:.....

Bốn m- ươi hai:.....

Bảy m- ươi lăm:.....

c. Viết các số: 48; 72; 51; 39; 65.

+ Theo thứ tự từ lớn đến bé:.....

+ Theo thứ tự từ bé đến lớn:
.....

Bài 2: Đặt tính rồi tính:

$32 + 47$

$97 - 5$

$4 + 73$

$57 - 45$

$86 - 70$

Bài 3: >, <, =?

$76 - 42 \dots 30 + 8$

$14 + 3 - 5 \dots 35 - 20$

$47 + 51 \dots 81 + 12$

$86 - 36 + 20 \dots 50 + 19$

$36 + 12 \dots 15 + 33$

$20 + 45 - 5 \dots 96 - 6 - 30$

Bài 4: Bạn Hà có sợi dây dài 85 cm, Hà cắt cho bạn Nam 25 cm. Hỏi sợi dây còn lại của Hà dài bao nhiêu xăng- ti- mét?

Phép tính:

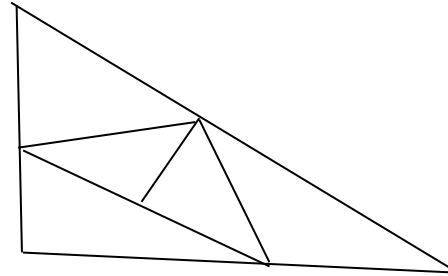
--	--	--	--	--

Trả lời:.....

Bài 6: Đúng ghi đ, sai ghi s

Hình vẽ bên có

- a- 4 hình tam giác
- b- 5 hình tam giác.
- c- 6 hình tam giác.
- d- 7 hình tam giác.



Bài 7: Vẽ đoạn thẳng CD có độ dài 7 cm?

Bài 8: Trên bàn có 15 quả bưởi, 3 chục quả cam. Hỏi trên bàn có tất cả bao nhiêu quả cam và quả bưởi?

Đổi:.....

Phép tính:

--	--	--	--	--

Trả lời:.....

Bài 8: Điền vào chỗ cho phù hợp

a) Mỗi người có mắt, tay và cái miệng

b) phòng học của lớp con có cửa sổ, cửa ra vào. Số cửa sổ số cửa ra vào.

ÔN TIẾNG VIỆT – ĐỀ 2

A. ĐỌC HIỂU: Đọc thầm bài sau

Bàn tay cô giáo

Bàn tay cô giáo
Tết tóc cho em
Về nhà mẹ khen
Tay cô rất khéo



Bàn tay cô giáo
Vá áo cho em
Như tay chị cả
Như tay mẹ hiền



Cô cầm tay em
Nắn từng nét chữ
Em viết đẹp thêm
Điểm mười trang vở.

Định Hải

Khoanh tròn vào chữ cái trước câu trả lời đúng:

1. Bài thơ nhắc đến bàn tay của ai?

A. Mẹ.

B. Bố.

C. Bà.

D. Cô giáo.

2. Cô giáo tết tóc cho bạn nhỏ, về nhà mẹ khen thế nào?

A. Tay cô rất khéo.

B. Con gái xinh lắm.

C. Tết tóc rất đẹp.

D. Con rất dễ thương.

3. Bàn tay cô giáo làm gì cho bạn nhỏ?

A. Dắt bạn nhỏ đi.

B. Cùng bạn nhỏ làm bánh.

C. Cầm tay bạn nhỏ viết chữ.

D. Dạy bạn nhỏ múa.

ÔN TOÁN – ĐỀ 3

Câu 1:

a) **Viết số thích hợp vào chỗ chấm:**

57; 58; 59;; ;;; 64;.....

88;; 90;; 92 ;;;; 96 ;;;;

b) **Viết các số:**

Năm mươi ba:..... Tám mươi một Sáu mươi lăm.....

Hai mươi tư:..... Bảy mươi chín:..... Một trăm:.....

Câu 2: Tính:

a) $52 + 3 - 5 = \dots\dots\dots$

$82 + 7 - 9 = \dots\dots\dots$

b) $25\text{cm} - 5\text{cm} + 30\text{cm} = \dots\dots\dots$


$40\text{cm} + 8\text{cm} - 28\text{cm} = \dots\dots\dots$

c) $3 \text{ ngày} + 2 \text{ ngày} = \dots\dots\dots$

$5 \text{ tuần} - 1 \text{ tuần} + 2 \text{ tuần} = \dots\dots\dots$

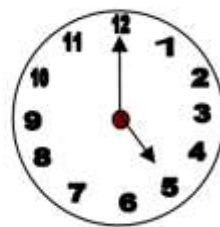
Câu 3: Đồng hồ chỉ mấy giờ ?

a)



.....

b)



.....

Câu 4: Viết tiếp vào chỗ

a) Một tuần lễ có ngày. Đó là: Thứ hai,

.....

ÔN TIẾNG VIỆT – ĐỀ 3

Bài 1: Đọc thầm bài sau:

Cây đào mùa xuân

Mùa xuân đã tới, cây đào tỉnh dậy sau một giấc ngủ dài. Cành cây khẳng khiu giờ đã bung ra những nụ đào tròn trịa và mấy búp lá tươi non như mấy ngọn lửa xanh. Nụ đào dần mở ra như đang mỉm cười cùng với nắng xuân. Cành cây mới hồi nào gầy guộc mà bây giờ đã vắn vít toàn hoa. Bông hoa màu hồng, cánh mềm mại như tơ lụa. Nhị hoa lấm tẩm vàng. Cả cây đào như khoác tấm áo màu hồng óng ả. Mỗi bông hoa như một viên ngọc lấp lánh. Cây đào là sứ giả của mùa xuân.

Khoanh tròn vào chữ cái trước ý trả lời đúng:

1. Nụ hoa đào được tả thế nào?

- | | |
|------------|--------------|
| a. Mềm mại | b. Tròn trịa |
| c. Bé xíu | d. Xinh xinh |

2. Cánh hoa đào mềm mại như gì?

- | | |
|---------|-------------|
| a. Nước | b. Tơ lụa |
| c. Bông | d. Cây bàng |

3. Nhị hoa đào có màu gì?

- | | |
|---------|--------|
| a. Hồng | b. Tím |
| c. Vàng | d. Đỏ |

4. Cây đào mùa xuân như được khoác tấm áo màu gì?

- | | |
|---------|---------|
| a. Xanh | b. Vàng |
| c. Đỏ | c. Hồng |

5. Cây đào được gọi là gì?

- | | |
|----------------------|-------------------------|
| a. Chị của mùa xuân. | b. Sứ giả của mùa xuân. |
| c. Em của mùa xuân. | d. Bạn của mùa xuân. |

ÔN TOÁN – ĐỀ 4

A. TRẮC NGHIỆM:

Khoanh tròn vào chữ cái trước câu trả lời đúng:

Câu 1: Số 45 gồm?

- A. 3 chục và 5 đơn vị B. 4 chục và 5 đơn vị C. 4 chục và 0 đơn vị.

Câu 2: Phép tính có kết quả bé hơn 20 là:

- A. $39 - 10$ B. $88 - 68$ C. $75 - 64$

Câu 3: Số thích hợp điền vào chỗ chấm là: 15, 25, 35, ... , 55, 65.


- A. 45 B. 75 C. 40

Câu 4: Bộ đi công tác 1 tuần và 3 ngày. Vậy, số ngày bộ đi công tác là :

- A. 4 ngày B. 8 ngày C. 10 ngày

Câu 5. Hình bên có hình vuông?

- A. 4 B. 5 C. 6



Câu 6. Số lớn nhất trong các số 45, 76, 90, 34 là:

- A. 90. B. 76 C. 34

Câu 7: Số liền sau của 59 là:

- A. 69 B. 60 C. 58

B. PHẦN TỰ LUẬN:

Bài 1: Đặt tính rồi tính:

$79 - 16$

$85 - 42$

$51 + 37$

$72 + 26$

Bài 2: <, >, =

$34 + 41 \square 57$

$53 - \square 12$

$76 - 20 \square 11$

$78 - 20 \square 50$

Bài 3: Viết các số theo thứ tự từ lớn đến bé: 60, 90, 70, 40

Bài 4: Mẹ có 50 quả bưởi. Mẹ cho bà 30 quả bưởi. Hỏi mẹ còn bao nhiêu quả bưởi?

Phép tính:

--	--	--	--	--

Trả lời:

ÔN TIẾNG VIỆT – ĐỀ 4

Bài 1: Đọc thầm bài thơ sau:

Đông về

Đầu tiên là cơn gió
Ào ạt lùa qua sân
Căn nhà đang rộng cửa
Đón mùa đông trở về.

Nhón nhác đàn gà con
Chạy ùa vào cánh mẹ
Đàn lợn con trong chuồng
Kêu tiếng gì khe khẽ.

Sáng ra ao lạnh cóng
Đám bèo đứng thu lu
Hàng cây im soi bóng
Lá trên cành đánh đu.

Cậu mèo vừa ngủ dậy
Tay rửa mặt qua loa
Chợt kêu lên: “Rét! Rét”
Chui vội vào ổ trống tro

Nguyễn Quỳnh Anh

1. Tìm trong bài:

Tiếng có vần *ao*:

Khoanh tròn vào chữ cái trước câu trả lời đúng:

2. Điều gì báo hiệu mùa đông về?

- | | |
|------------|------------|
| A. Cơn gió | B. Nắng |
| C. Cơn mưa | D. Đám mây |

3. Mùa đông nước trong ao như thế nào?

- | | |
|---------|--------------|
| A. Ấm | B. Mát mẻ |
| C. Nóng | D. Lạnh cóng |

4. Con gì kêu lên: “Rét! Rét!” ?

- | | | | |
|-----------|------------|------------|------------|
| A. Con gà | B. Con chó | C. Con lợn | D. Con mèo |
|-----------|------------|------------|------------|

Bài 6: Nối ô chữ để tạo thành câu:

Cá heo
Sức khỏe
Cô giáo
Trẻ em

là tương lai của đất nước.
là người mẹ thứ hai của em.
là anh hùng của biển cả.
là vốn quý nhất.

ÔN TOÁN – ĐỀ 5

Khoanh vào chữ cái trước kết quả đúng:

Câu 1: Trong các số : 35 , 46 , 55 , 27 , số nào lớn nhất?

- A . 35 B . 46 C . 55 D . 27


Câu 2: Số liền trước của 50 là :

- A . 40 B . 60 C . 48 D . 49

Câu 3: “Số 65” đọc là :

- A. sáu năm. B. Sáu mươi lăm
C. sáu lăm . D. sáu mươi năm

Câu 4: : Độ dài của chiếc bút chì dưới đây theo đơn vị xăng-ti-mét là:



- A. 6cm B. 5cm C. 4cm D. 3cm

Câu 5: Nếu hôm nay là thứ ba ngày 6 tháng 5 thì ngày mai là:

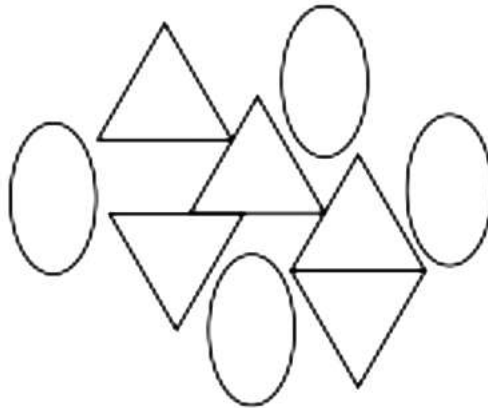
- A. Thứ năm ngày 7 tháng 5 C. Thứ tư ngày 7 tháng 5
B. Thứ ba ngày 5 tháng 5 D. Thứ năm ngày 8 tháng 5

Câu 6: Đồng hồ dưới đây chỉ:



- A. 5 giờ B. 7 giờ C. 6 giờ D. 12 giờ

Câu 7: Hình dưới đây có bao nhiêu hình tam giác?



- A. 5 hình B. 6 hình C. 3 hình D. 4 hình

Câu 8: Đặt tính rồi tính :

$45 + 40$

$39 - 9$

$14 + 32$

$70 - 30$

.....
.....
.....

Câu 9 : Cho các số 73, 19, 24, 55:

- a) Số lớn nhất là:
- b) Số bé nhất là :.....
- c) Sắp xếp các số theo thứ tự từ bé đến lớn:.....
- d) Sắp xếp các số theo thứ tự từ lớn đến bé:.....

Câu 10: Nhà em có 34 con gà, mẹ đã bán đi 12 con gà. Hỏi nhà em còn lại bao nhiêu con gà

Phép tính:.....

Trả lời:.....

ÔN TIẾNG VIỆT ĐỀ 5

A. Đọc hiểu

Đọc bài sau và trả lời câu hỏi:

Sau cơn mưa

Sau trận mưa rào ,mọi vật đều sáng và tươi. Những đóa râm bụt thêm đỏ chói. Bầu trời xanh bóng như vừa được gội rửa. Mấy đám mây bông trôi nhởn nhơ, sáng rực lên trong ánh mặt trời .

Mẹ gà mừng rỡ “tục, tục” dất bầy con quây quanh vũng nước đọng trong vườn.

Theo Vũ Tú Nam

Khoanh tròn ý đúng

Câu 1 Sau trận mưa rào, bầu trời như thế nào?

- a. Bầu trời xanh thẫm
- b. Bầu trời xanh bóng
- c. Bầu trời xanh trong

Câu 2 Sau trận mưa rào, những đóa râm bụt như thế nào?

- a. Những đóa râm bụt thêm đỏ chói
- b. Những đóa râm bụt thêm đỏ tươi
- c. Những đóa râm bụt thêm đỏ thẫm

Câu 3 Gạch dưới các tiếng có vần uây :

Khuấy động, ngoe nguẩy, nguây nguẩy

Câu 4 Điền từ : “ nhởn nhơ, xanh bóng, đỏ chói.” vào chỗ trống cho thành câu :

- Những đóa râm bụt thêm.... ..
- Những đám mây bông trôi

B. VIẾT

I. Chính tả (*Bố mẹ đọc cho con viết*)

Đêm trăng quê hương

Mặt trăng tròn vành vạnh từ từ nhô lên sau lũy tre. Bầu trời điểm xuyết một vài ngôi sao lấp lánh như những con đom đóm nhỏ. ánh trăng vàng dịu mát tỏa xuống, chảy tràn lan trên mặt đất, trên các cành cây, ngọn cỏ,...

II. Bài tập:

1. Điền vào chỗ trống **l** hay **n**

Con.....a

Quảa

2. Điền vào chỗ trống **c, k** hoặc **q**

- Con ... ua bò ngang.
- Cái ...iêng có ba chân.
- Mẹ mua cho em một cái ...uần bằng vải ca ki.
- Bà dạy em làm bánh ...uốn.

3. Viết một câu nói về mẹ của em.

.....